



# WANG MONEY

Lihat senarai barangan dibawah dan kirakan jumlah setiap bakul.  
Look at the shopping items below then calculate the total of each shopping basket.




pisang = 50 sen 	sosej = RM 0.75 	jus = RM 1.65 
cupcake = RM 1.50 	nanas = RM3 	keju = RM 1.20 
roti = RM 2.75 	aiskrim = RM 4.20 	susu = RM 2.10 
tembikai = RM 4 	gula-gula = 50 sen 	epal = 75 sen 


Bakul Membeli-belah Shopping Baskets




Bakul Shopping Basket	Jumlah Total	Bakul Shopping Basket	Jumlah Total
1 cupcake 3 pisang 2 epal		1 aiskrim 2 keju 6 gula-gula	
2 roti 2 susu 2 sosej		3 keju 1 susu 2 nanas	
12 gula-gula 1 tembikai 1 jus		6 epal 1 jus 8 pisang	
2 sosej 3 pisang		1 epal 1 sosej 1 pisang	

Cari hasil tambah semua duit syiling :



Add the coins to find the total :




 +  +  =	
--	--

 +  +  =	
--	--

 +  +  =	
--	--

 +  +  =	
--	--

 +  +  =	
--	--




 +  +  =	
--	--




 +  +  =	
--	--

Cari hasil tambah semua duit syiling :

Add the coins to find the total :



<b>3</b>		+	<b>2</b>		+	<b>2</b>		=	
----------	---	---	----------	---	---	----------	--	---	--

<b>2</b>		+	<b>1</b>		+	<b>1</b>		=	
----------	---	---	----------	---	---	----------	--	---	--

<b>5</b>		+	<b>5</b>		+	<b>1</b>		=	
----------	---	---	----------	---	---	----------	--	---	--

<b>5</b>		+	<b>5</b>		+	<b>2</b>		=	
----------	---	---	----------	---	---	----------	--	---	--

<b>1</b>		+	<b>1</b>		+	<b>3</b>		=	
----------	---	---	----------	---	---	----------	--	---	--

<b>6</b>		+	<b>8</b>		+			=	
----------	---	---	----------	---	---	--	--	---	--

<b>6</b>		+	<b>8</b>		+			=	
----------	---	---	----------	---	---	--	--	---	--

# Penyelesaian Masalah

1

Moza ada RM36.30. Ayahnya memberi lagi RM42.  
Kira jumlah wang Moza.

2

Zain hendak membeli kereta mainan yang berharga RM87.90. Dia ada RM100. Berapakah baki wangnya?

3

Sepasang selipar berharga RM2.  
Sepasang seluar berharga RM9.

a. Ibu membeli 3 pasang seluar dan sepasang selipar.  
Kira jumlah harga yang perlu dibayar.

b. Kira harga 3 pasang selipar.

3

Sepasang selipar berharga RM2.  
Sepasang seluar berharga RM9.

a. Ibu membeli 3 pasang seluar dan sepasang selipar.  
Kira jumlah harga yang perlu dibayar.

b. Kira harga 3 pasang selipar.

4

RM48 dibahagikan sama banyak antara 6 orang.  
Berapakah wang setiap orang dapat?

5

Jika saya ada 7 keping RM5 dan 6 keping RM10.  
Adakah saya mempunyai lebih RM100?